



**MEHR
ERFAHREN**

ARBEITSH

**VERA 8 · Englisch
Version ,**

mit MP3-CD

STARK

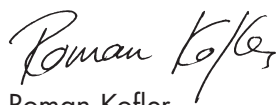
Haupt-/Mittelschule

Liebe Schülerinnen und Schüler,
liebe Lehrerinnen und Lehrer,

das vorliegende Arbeitsheft dient dazu, die Kompetenzbereiche *Listening*, *Reading*, *Language in use* und *Writing* intensiv zu trainieren. Es bietet abwechslungsreiches Text- und Übungsmaterial, abgestimmt auf die Aufgabenformate, die auch in VERA 8 zu erwarten sind. Die Übungsaufgaben können jedoch auch unabhängig von VERA 8 zur Wiederholung und Festigung der grundlegenden sprachlichen Fertigkeiten verwendet werden.

Die einzelnen Kapitel des Arbeitsheftes können in beliebiger Reihenfolge bearbeitet werden. Auch innerhalb der Kapitel ist es möglich, die Reihenfolge der Aufgaben flexibel zu handhaben.

Viel Spaß beim Einsatz dieses Arbeitsheftes und viel Erfolg beim Test!



Roman Kofler

Inhaltsverzeichnis

Kompetenzbereich: <i>Listening</i>	1
Kompetenzbereich: <i>Reading</i>	11
Kompetenzbereich: <i>Language in use</i>	22
Kompetenzbereich: <i>Writing</i>	29

MP3-CD


- Track 1: M1 – On a New York double-decker bus tour
- Track 2: M2 – Radio news
- Track 3: M3 – Favourite books
- Track 4: M4 – A headmaster's announcement
- Track 5: M5 – An American in Paris
- Track 6: M6 – Message on the answering machine
- Track 7: M7 – Advertisements

Zeichenerklärung



Für diese Übung wird die MP3-CD benötigt.
Alle Hörverstehenstexte sind im Lösungsheft abgedruckt.

29 In einer Gärtnerei gibt es nebenstehendes Angebot. Wie viel kostet ein Strauß mit acht bzw. 15 Rosen?



30 a Kreuze alle Zuordnungen an, die direkt proportional sind.


- Anzahl der Eiskugeln → Preis für dieses Eis
- Alter eines Menschen → Gewicht des Menschen
- Anzahl der Kinogänger → Einnahmen an der Kinokasse
- Menge der Kirschen → Preis für die Kirschen
- Anzahl der Schüler in einer Klasse → Anzahl der Note 1 in einer Arbeit

b Begründe, warum die restlichen Zuordnungen nicht direkt proportional sind.

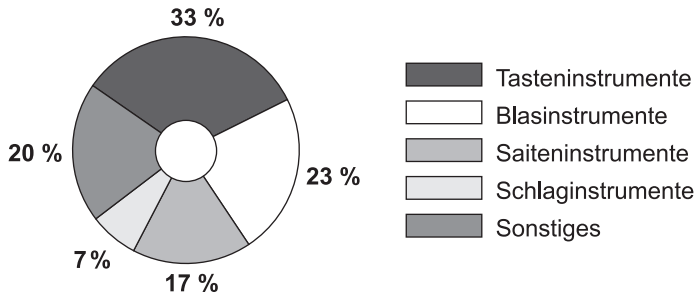
31 Hier siehst du die Kosten für die Leistungen eines Handwerkers. Ergänze die fehlenden Werte.

Zeit in h		2	4			12	16	17
Kosten in €	65	130		455	585			

32 Für ihre Familie (drei Personen) kocht Frau Müller immer 450 g Nudeln. Wie viel Gramm Nudeln muss sie kochen, wenn noch zwei Personen zu Besuch kommen?

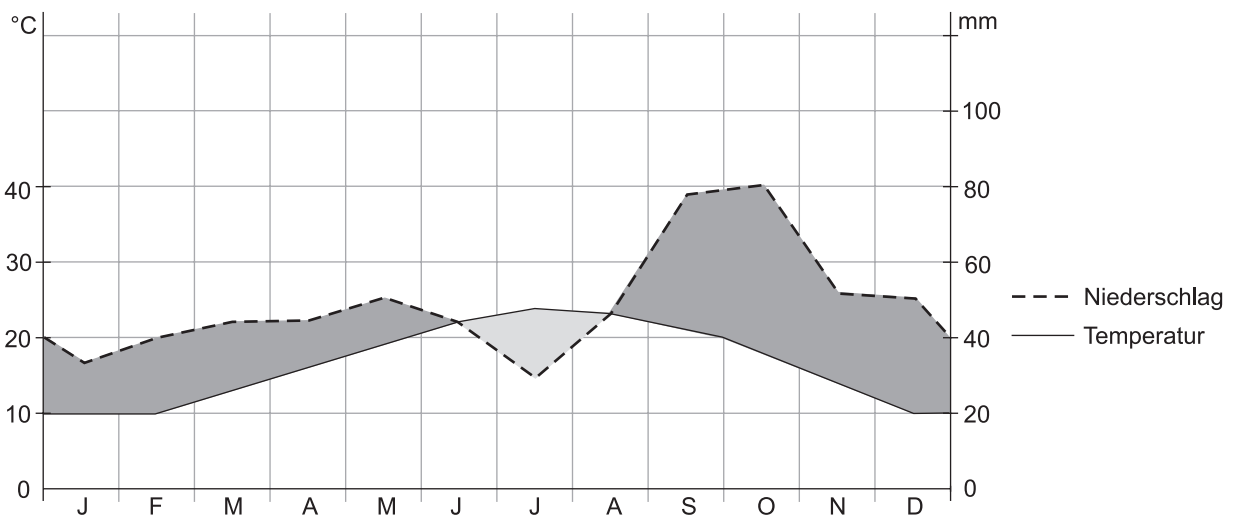


70 Das Kreisdiagramm zeigt den prozentualen Umsatzanteil verschiedener Instrumente an den Gesamteinnahmen eines Herstellers. Welche Aussagen treffen zu? Kreuze an.

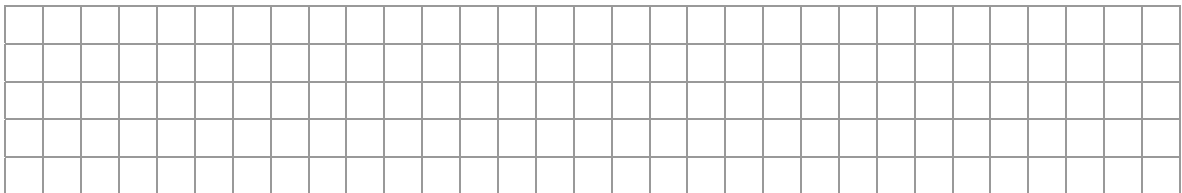


- Den größten Anteil am Umsatz haben Tasteninstrumente.
- Der Kreissektor für die Blasinstrumente hat einen Winkel von genau 80° .
- Schlag- und Saiteninstrumente machen die Hälfte des gesamten Umsatzes aus.
- Der Kreissektor für die sonstigen Instrumente hat einen Winkel von genau 72° .

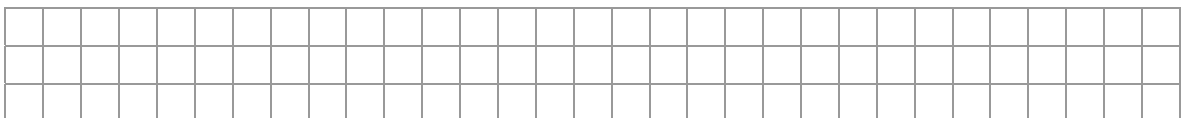
71 Hier siehst du ein Klimadiagramm für Barcelona. Es gibt die durchschnittliche Monatstemperatur und den durchschnittlichen monatlichen Niederschlag an.



a Berechne die Jahresdurchschnittstemperatur von Barcelona.



b Wie groß ist der Unterschied der Wassermenge zwischen dem Monat mit der größten Niederschlagsmenge und dem Monat mit der geringsten Niederschlagsmenge?





© **STARK Verlag**

www.stark-verlag.de
info@stark-verlag.de

Der Datenbestand der STARK Verlag GmbH ist urheberrechtlich international geschützt. Kein Teil dieser Daten darf ohne Zustimmung des Rechteinhabers in irgendeiner Form verwertet werden.

STARK